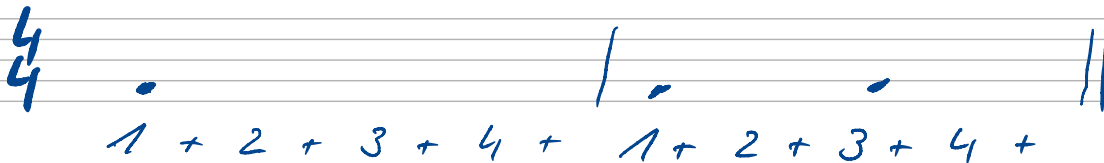
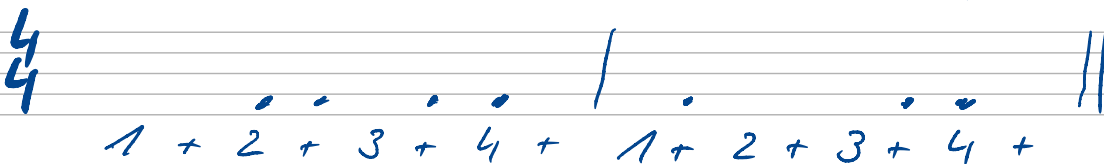



Punkte im Raster als Noten schreiben

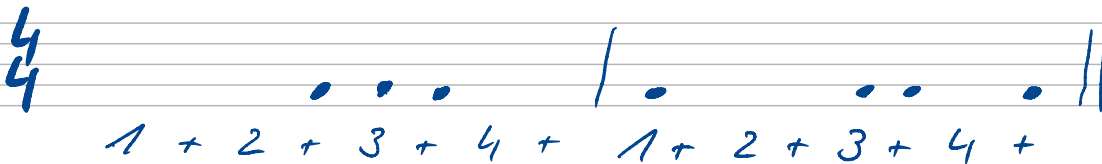
Schreibe über die folgenden Punkte im Raster jeweils die korrekten Notenwerte.

$\frac{4}{4}$ 
 $1 + 2 + 3 + 4 + \quad 1 + 2 + 3 + 4 +$

$\frac{4}{4}$ 
 $1 + 2 + 3 + 4 + \quad 1 + 2 + 3 + 4 +$

$\frac{4}{4}$ 
 $1 + 2 + 3 + 4 + \quad 1 + 2 + 3 + 4 +$

$\frac{4}{4}$ 
 $1 + 2 + 3 + 4 + \quad 1 + 2 + 3 + 4 +$

$\frac{4}{4}$ 
 $1 + 2 + 3 + 4 + \quad 1 + 2 + 3 + 4 +$